

**PARTIE 1 : La Chine (TOTAL 110 points)**

**/40 QUESTION 1 : Vrai ou faux (Il n'est pas nécessaire de justifier votre réponse)**

Réponse correcte = +2 points, réponse incorrecte = - 1 point, abstention = 0 point

		V/F
1	La Chine est traversée par l'équateur	F
2	La politique de l'enfant unique a été un succès	V
3	La Chine doit nourrir ¼ de la population mondiale avec 7% des terres arables de la planète	V
4	La population urbaine chinoise représente plus de la moitié de la population totale du pays	V
5	Les premiers à avoir trouvé les ZES attractives ont été les chinois de la diaspora	V
6	Le Grand bond n'a pas eu les effets escomptés mais a quand même permis à la Chine de s'assurer un bon niveau de développement entre 1959 et 1961	F
7	Mao Zedong était déjà mort lorsque les ZES sont apparues en Chine ?	V
8	La notion de sacrifice de soi est très présente dans la société capitaliste	F
9	La joint-venture est un accord économique qui empêche aujourd'hui la Chine d'avoir un pouvoir de décision sur son économie ?	F
10	La Chine est le pays le plus densément <sup>1</sup> peuplé au monde?	F
11	Sous le régime communiste, tout appartient et est dirigé par l'Etat	V
12	Même avec des mesures strictes, la Chine n'a pas pu éviter l'urbanisation explosive qui prévaut dans de nombreux pays du Sud et ainsi assurer le niveau de développement de ses villes ?	F
13	L'altitude de la Chine se distribue entre 20° nord et 40° nord ?	F
14	Un pays émergent est un pays qui procède à un rattrapage économique très rapide, de l'ordre de 10 à 15 ans ?	V
15	Les « Chinatown » sont surtout présents dans l'univers cinématographique américain mais ne se vérifient pas dans la réalité	F
16	Le permafrost est exactement la même chose que le pergélisol	V
17	Le port de Shanghai importe beaucoup de produits en Chine qu'il n'en exporte à travers le monde.	F
18	En Chine, tout le pays est soumis à la même heure, pourtant celui-ci est traversé par 5 fuseaux horaires différents	V
19	La région de Hong Kong est spécialisée notamment dans la confection textile	V
20	L'anticyclone sibérien est un vent tropical sec qui s'abat sur le Nord de la Chine en hiver ?	F

<sup>1</sup> Densité : Nombre habitants/km<sup>2</sup>

**/40 QUESTION 2 : Indiquez par une lettre la bonne réponse dans la colonne appropriée (une seule réponse possible)**

Réponse correcte = +2 points, réponse incorrecte = - 1 point, abstention = 0 point

		Réponse
1	<p>Sur base du document 2 en annexe, qui est un graphique projetant l'évolution possible du classement des 10 premières économies mondiales jusqu'en 2050 (sur base des chiffres de 2006), que pouvez-vous affirmer ?</p> <p>a) Le PIB de la Chine évolue aussi vite que prévu            b) Le PIB de la Chine évolue moins vite que prévu            c) Le PIB de la Chine évolue plus vite que prévu            d) Le PIB des Etats-Unis diminue avec le temps            e) Aucune des propositions précédentes</p>	C
2	<p>Sur base du document 3 en annexe, qui est un graphique reprenant la répartition de la population chinoise par classe d'âge, de 1950 à 2050, que pouvez-vous affirmer ?</p> <p>a) La part des 65 ans et + va augmenter, ainsi que la part des 0-14 ans.            b) La part des 65 ans et + va diminuer, ainsi que la part des 0-14 ans.            c) La part des 65 ans et + va diminuer, alors que la part des 0-14 ans va augmenter            d) aucune de ces propositions</p>	D
3	<p>Sur base du document 4 en annexe, qui est un graphique reprenant l'évolution du déficit des femmes en Chine de 1960 à 2050, que pouvez-vous affirmer ?</p> <p>a) L'évolution du déficit a été la plus forte dans la décennie des années 1960            b) L'évolution du déficit a été la plus forte dans la décennie des années 1970            c) L'évolution du déficit a été la plus forte dans la décennie des années 1980            d) L'évolution du déficit a été la plus forte dans la décennie des années 1990            e) Aucune de ces propositions</p>	A
4	<p>La Chine devient, dans les années 1990, une puissance économique et adhère à l'OMC en .....</p> <p>a) 1994            b) 2001            c) 2004            d) 2014            e) aucune de ces propositions</p>	B
5	<p>La révolution culturelle est un évènement majeur déclenché par Mao Zedong dans les années 1960 en Chine</p> <p>a) Pour permettre l'ouverture économique de la Chine sur le monde            b) Pour mieux faire connaître la civilisation chinoise au reste du monde            c) Pour diminuer le nombre de naissances en Chine            d) Aucune de ces propositions</p>	D
6	<p>La population chinoise est concentrée à l'Est du pays.</p> <p>a) Pour des raisons climatiques            b) Pour des raisons économiques            c) Pour des raisons historiques            d) Toutes les propositions qui précèdent</p>	D

7	<p>Lequel de ces pays a une frontière commune avec la Chine ?</p> <ul style="list-style-type: none"> <li>a) Thaïlande</li> <li>b) Népal</li> <li>c) Corée du Sud</li> <li>d) Cambodge</li> <li>e) Malaisie</li> <li>f) aucune de ces propositions</li> </ul>	B
8	<p>De ces 5 domaines naturels, lequel connaît la plus grande amplitude thermique ?</p> <ul style="list-style-type: none"> <li>a) la Chine montagneuse</li> <li>b) la Chine aride</li> <li>c) la Chine tropicale</li> <li>d) La Chine steppique</li> <li>e) la Chine tempérée</li> </ul>	D
9	<p>Dans quel domaine naturel, peut-on être exposé aux typhons ?</p> <ul style="list-style-type: none"> <li>a) la Chine tropicale</li> <li>b) la Chine montagneuse</li> <li>c) la Chine aride</li> <li>d) la Chine tempérée</li> </ul>	A
10	<p>Je suis un système économique basé sur la liberté individuelle. Qui suis-je ?</p> <ul style="list-style-type: none"> <li>a) le capitalisme</li> <li>b) le socialisme</li> <li>c) le socialisme de marché</li> <li>d) aucune de ces propositions</li> </ul>	A
11	<p>Le Laos est un pays</p> <ul style="list-style-type: none"> <li>a) au sud de la Chine</li> <li>b) au nord de la Chine</li> <li>c) à l'ouest de la Chine</li> <li>d) qui ne touche pas la Chine</li> <li>e) qui n'existe pas</li> </ul>	A
12	<p>La densité moyenne de population en Chine est:</p> <ul style="list-style-type: none"> <li>a) Supérieure à la moyenne mondiale</li> <li>b) Inférieure à la moyenne mondiale</li> <li>c) Egale à la moyenne mondiale</li> <li>d) aucune de ces propositions</li> </ul>	B
13	<p>Les limons sont des dépôts sédimentaires</p> <ul style="list-style-type: none"> <li>a) dont les grains sont plus petits que les argiles</li> <li>b) dont les grains sont plus gros que les sables</li> <li>c) fréquents dans les dépôts alluviaux</li> <li>d) aucune de ces propositions</li> </ul>	C

14	<p>La population de la Chine est environ ..... fois supérieure à celle de la Belgique<sup>2</sup></p> <p>a) 98 b) 101 c) 122 d) 314 e) aucune de ces propositions</p>	C
15	<p>Le grand bond en avant en Chine</p> <p>a) a été lancé en 1966 par Mao Zedong b) est une tentative de modernisation du pays par la création des communes étatiques c) a permis d'améliorer la productivité agricole d) a fait chuté ponctuellement la natalité e) aucune de ces propositions</p>	D
16	<p>Quel climat chinois est pendant la majorité de l'année touché par le permafrost?</p> <p>a) Climat tropical b) Climat montagnard c) Climat désertique d) Climat tempéré continental e) Climat tempéré océanique f) Climat de steppe g) aucune de ces propositions</p>	B
17	<p>Dans sa stratégie de contrôle du pouvoir, le gouvernement chinois est plus laxiste<sup>3</sup> dans sa politique de l'enfant unique avec :</p> <p>a) Les minorités ethniques b) Les urbains vivants sur la côte c) La population flottante d) Les ruraux vivant à l'intérieur des terres e) aucune de ces propositions</p>	A
18	<p>Quelle est l'ethnie majoritaire en Chine ?</p> <p>a) Mandchou b) Zhuang c) Miao d) Dong e) aucune de ces propositions</p>	E
19	<p>La région métropolitaine de Pékin est principalement spécialisée dans :</p> <p>a) Le secteur primaire b) Le secteur secondaire c) Le secteur tertiaire d) aucune de ces propositions</p>	C

<sup>2</sup> Population de la Belgique au 1/01/2019 : 11.413.203 habitants  
Source : <https://www.ibz.rrn.fgov.be/fr/population/statistiques-de-population/>

<sup>3</sup> Laxiste : tolérant

20	A partir de quand l'obésité à commencer à poser des problèmes en Chine ?	D
	<ul style="list-style-type: none"> <li>a) Première campagne de limitation des naissances</li> <li>b) Deuxième campagne de limitation des naissances</li> <li>c) Troisième campagne de limitation des naissances</li> <li>d) Quatrième campagne de limitation des naissances</li> <li>e) Il n'y a pas de liens entre l'obésité en Chine et les campagnes de limitation des naissances</li> </ul>	

### /30 QUESTION 3 : Les mouvements de population en Chine

*Questionnaire à Choix Multiple (QCM). Indiquez par une/des lettre(s) la ou les bonne(s) réponse(s), sachant que toutes les possibilités de réponse sont envisageables (aucune ou 1 ou plusieurs réponses justes)*

Réponse correcte = +2 points, réponse incorrecte = - 1 point, abstention = 0 point

		Réponse(s)
1	La/Les principale(s) cause(s) de départ des migrants de l'Ouest de la Chine est/sont <ul style="list-style-type: none"> <li>a. le manque de ressources naturelles importantes.</li> <li>b. la faible densité de population</li> <li>c. Les conditions naturelles difficiles.</li> <li>d. aucune de ces propositions</li> </ul>	A C
2	La plupart des migrants qui quittent la région centrale de la Chine vont vers <ul style="list-style-type: none"> <li>a. des régions situées plus à l'Ouest</li> <li>b. des régions situées plus à l'Est</li> <li>c. l'étranger</li> <li>d. aucune de ces propositions</li> </ul>	B
3	La population flottante aujourd'hui en Chine dépasse les .....de personnes <ul style="list-style-type: none"> <li>a. 50 millions</li> <li>b. 100 millions</li> <li>c. 200 millions</li> <li>d. aucune de ces propositions</li> </ul>	C
4	La Chine a ouvert son marché économique au reste du monde depuis les années <ul style="list-style-type: none"> <li>a. 1970</li> <li>b. 1980</li> <li>c. 1990</li> <li>d. 2000</li> <li>e. Aucune de ces propositions</li> </ul>	B
5	Comment, grâce aux migrations, la Chine a pu assurer son niveau de développement économique ? <ul style="list-style-type: none"> <li>a. Elle a assigné les ruraux à résidence</li> <li>b. Elle a favorisé l'exode rural</li> <li>c. Elle a fait appel à la diaspora dans le cadre d'investissements sino-chinois</li> <li>d. Elle a créé des villes satellites pour désengorger le centre des grandes villes</li> </ul>	A C D
6	Quel pourcentage représente la diaspora chinoise par rapport à la population chinoise ? <ul style="list-style-type: none"> <li>a. 1%</li> <li>b. 2%</li> <li>c. 2.5%</li> <li>d. 3%</li> <li>e. 5%</li> </ul>	C

7	<p>Les migrations flottantes sont des migrations</p> <ul style="list-style-type: none"> <li>a. légales.</li> <li>b. liées à l'exode rural.</li> <li>c. volontaires.</li> <li>d. aucune de ces propositions</li> </ul>	<p>B C</p>
8	<p>Quel(s) lien(s) les chinois présents en Amérique du Nord conservent-ils avec la Chine ?</p> <ul style="list-style-type: none"> <li>a. Des liens politiques</li> <li>b. Des liens commerciaux</li> <li>c. Des liens affectifs</li> <li>d. aucune de ces propositions</li> </ul>	<p>B</p>
9	<p>Pourquoi le gouvernement chinois pratique des migrations forcées de population Han vers l'Ouest du pays ?</p> <ul style="list-style-type: none"> <li>a. Pour assurer la stabilité nationale</li> <li>b. Pour rétablir l'équilibre de la population</li> <li>c. Pour surveiller la frontière mal maitrisée</li> <li>d. Aucune de ces propositions</li> </ul>	<p>A B</p>
10	<p>Quel document officiel chinois définit le lieu de résidence ?</p> <ul style="list-style-type: none"> <li>a. Le visa</li> <li>b. Le passeport</li> <li>c. Le Hukou</li> <li>d. Le Kirikou</li> <li>e. aucune de ces propositions</li> </ul>	<p>C</p>

## PARTIE 2 : l'agriculture intertropicale (TOTAL sur 60 points)

**/20** QUESTION 1 : Vrai ou faux (Il n'est pas nécessaire de justifier votre réponse)

Réponse correcte = +2 points, réponse incorrecte = - 1 point, abstention = 0 point

		V/F
1	L'agriculture conventionnelle est aussi appelée agriculture vivrière. C'est une agriculture pratiquée dans les pays du Sud et destinée à la consommation locale.	F
2	Un adulte moyen <sup>4</sup> de sexe masculin doit ingérer en moyenne 2500 Kcal/jour s'il veut éviter la sous-nutrition.	V
3	Entre la sécurité alimentaire et l'autosuffisance alimentaire, c'est la première qui est la plus importante.	F
4	La révolution verte a contribué à creuser les écarts de productivité et de rendements entre les agricultures du monde, mais dans le contexte d'augmentation de la population mondiale, elle s'est révélée être un mal nécessaire.	V
5	Les investissements consentis dans les pays du Sud pour l'agriculture sont importants et malgré cela, le secteur fonctionne mal.	F
6	Le dumping est une pratique commerciale qui consiste à vendre sur les marchés étrangers à des prix inférieurs aux prix locaux.	V
7	La zone intertropicale s'étend du tropique du Cancer, situé à 23°27' Nord, jusqu'au tropique du Capricorne, situé à 23°27' Sud.	V
8	La part de la valeur ajoutée agricole en pourcentage du PIB <sup>5</sup> est très faible dans les pays du Nord	V
9	La valeur ajoutée agricole par travailleur est très élevée dans les pays du Nord	V
10	Depuis les années 1960, la situation alimentaire mondiale s'est améliorée au niveau du pourcentage de sous-alimentés.	V

**/20** QUESTION 2 : Indiquez par une lettre la bonne réponse dans la colonne appropriée (une seule réponse possible)

Réponse correcte = +2 points, réponse incorrecte = - 1 point, abstention = 0 point

		réponse
1	Le monde aujourd'hui compte plus de.....d'agriculteurs.  a) 1 milliard b) 1,5 milliard c) 2 milliards	A
2	Sur base du document 1 en annexe, qui concerne la demande céréalière animale mondiale quelle région du monde connaîtra l'augmentation absolue <sup>6</sup> la plus forte ?  a) Europe Orientale et Asie Centrale b) Afrique et Moyen-Orient c) Amérique Latine et Caraïbes d) Asie du Sud, de l'Est et Pacifique e) Europe Occidentale et Amérique du Nord	D

<sup>4</sup> Avec un poids moyen de 75 kg et une activité physique modérée

<sup>5</sup> PIB = produit Intérieur Brut



<sup>6</sup> L'augmentation absolue signifie la différence entre la production finale et la production initiale soit :  
Production<sub>2050</sub> – Production<sub>2000</sub>. Elle s'exprime ici en millions de tonnes.

3	<p>Depuis l'année 1961, les importations dans les pays du Sud ont été multipliées par plus de</p> <ul style="list-style-type: none"> <li>a) 4</li> <li>b) 6</li> <li>c) 8</li> <li>d) 10</li> <li>e) 12</li> <li>f) 14</li> </ul>	E
4	<p>L'aide humanitaire d'urgence lorsqu'elle devient permanente</p> <ul style="list-style-type: none"> <li>a) Permet d'avoir un réel impact positif sur la situation alimentaire du pays concerné</li> <li>b) est en réalité une subvention déguisée aux agriculteurs des pays donateurs</li> <li>c) Aucune des propositions précédentes</li> </ul>	B
5	<p>Pourquoi une augmentation très forte du prix des produits alimentaires importés dans la zone intertropicale en 2008 ?</p> <ul style="list-style-type: none"> <li>a) À cause de la diminution des surfaces agricoles, qui sont accaparées par les multinationales.</li> <li>b) À cause de l'augmentation du prix des matières premières minérales.</li> <li>c) À cause des 3 années précédentes de sécheresse qui ont réduit significativement l'offre alimentaire disponible.</li> <li>d) Aucune des propositions précédentes</li> </ul>	C
6	<p>De quelle manière peut-on exprimer le rendement dans l'agriculture :</p> <ul style="list-style-type: none"> <li>a) En poids par hectare cultivé</li> <li>b) En dollar par actif agricole</li> <li>c) En pourcentage du PIB</li> <li>d) Aucune des propositions précédentes</li> </ul>	A
7	<p>La balance commerciale d'un pays est?</p> <ul style="list-style-type: none"> <li>a) La différence entre ses exportations et ses importations</li> <li>b) Le rapport entre ses exportations et ses importations</li> <li>c) La différence entre ses importations et ses exportations</li> <li>d) Le rapport entre ses exportations et ses importations</li> <li>e) Aucune des propositions précédentes</li> </ul>	A
8	<p>« Accepter de payer certains produits un peu plus chers s'ils garantissent un revenu décent aux paysans, artisans et petits fabricants des pays du Sud ». De quel principe s'agit-il ?</p> <ul style="list-style-type: none"> <li>a) Le régime alimentaire américain</li> <li>b) La souveraineté alimentaire</li> <li>c) La sécurité alimentaire</li> <li>d) L'autosuffisance alimentaire</li> <li>e) Aucune des propositions précédentes</li> </ul>	F
9	<p>La part des personnes sous-alimentées dans le monde, est passée de 37% dans les années 1970 à quelle proportion aujourd'hui ?</p> <ul style="list-style-type: none"> <li>a) Elle n'a pas évolué, elle est toujours au alentour de 37% (Entre 35 et 40%)</li> <li>b) Elle a chuté au alentour de 10 % (entre 10 et 15%)</li> <li>c) Elle a augmenté à plus de 50%</li> <li>d) Aucune des propositions précédentes</li> </ul>	B
10	<p>Laquelle des affirmations suivantes est correcte ? Dans les pays du Nord,...</p> <ul style="list-style-type: none"> <li>a) l'agriculture concerne environ 3% des actifs et sa productivité est suffisante</li> <li>b) l'agriculture concerne environ 70% des actifs et sa productivité est excédentaire</li> <li>c) l'agriculture concerne environ 3% des actifs et sa productivité est excédentaire</li> <li>d) l'agriculture concerne environ 70% des actifs et sa productivité est suffisante</li> <li>e) Aucune des affirmations précédentes</li> </ul>	C



Questionnaire à Choix Multiple (QCM). Indiquez par une/des lettre(s) la ou les bonne(s) réponse(s) qui représente(nt) le mieux les images suivantes, sachant que toutes les possibilités de réponse sont envisageables  
(aucune ou 1 ou plusieurs réponses justes)

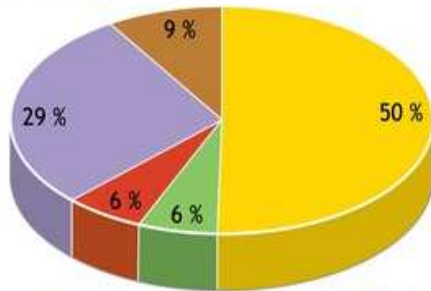
Réponse correcte = +2 points, réponse incorrecte = - 1 point, abstention = 0 point

		Réponse(s)
1	<p>FAMINE: HOW ALL AFRICA CAN BE SAVED?</p>  <p>a) Dans le contexte d'augmentation très importante de la population mondiale (surtout africaine), il n'est malheureusement pas possible d'aider tout le monde.</p> <p>b) Dans le contexte de la libéralisation du commerce international, mise en place par l'OMC, la concurrence est rude pour l'accès à la nourriture.</p> <p>c) Dans le contexte du réchauffement climatique, les sécheresses à répétition des régions d'Afrique (Sahel et Somalie) sont responsables de la famine.</p> <p>d) Aucune des réponses précédentes</p>	D
2	 <p>a) La suppression des barrières douanières permet de faire des économies importantes pour les pays du Sud</p> <p>b) La suppression des barrières douanières contribue à précariser<sup>8</sup> l'agriculture des pays du Sud.</p> <p>c) Le prix international se met en place et ouvre des perspectives positives à la majorité des agriculteurs du monde.</p> <p>d) Le prix international se met en place et s'aligne sur le prix proposé par l'agro-business</p> <p>e) Aucune des propositions précédentes.</p>	B D

\* 6. Traduction de l'anglais : « Famine : comment tout l'Afrique peut-elle être sauvée ? »

<sup>8</sup> Rendre plus fragile

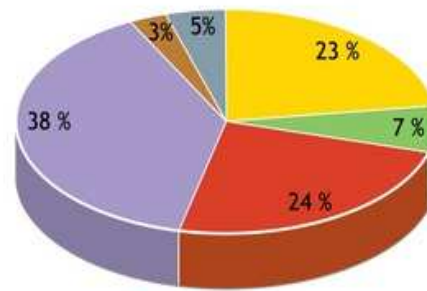
3

**Tchadiens**Total des apports caloriques :  
2245 Kcal / jour / personne

■ Céréales  
■ Fruits, légumes, légumineux, noix

■ Viande, poisson, lait, œufs  
■ Huiles, graisses, sucres

**Américains**  
Total des apports caloriques :  
3766 Kcal / jour / personne



■ Racines, tubercules  
■ Autres

Source : OMS, dernières données disponibles

- Le régime alimentaire d'un homme tchadien est bon pour la santé et pour l'environnement.
- Le régime alimentaire d'un homme américain est mauvais pour la santé et pour l'environnement.
- Le régime alimentaire d'un homme tchadien est mauvais pour la santé mais bon pour l'environnement.
- Le régime alimentaire d'un homme américain est mauvais pour la santé mais bon pour l'environnement.
- Aucune des propositions précédentes.

B  
C

4

**En France, l'obésité continue de faire des victimes...**

Et vous pourriez reconnaître votre agresseur ?



- Les fast-food dans les pays du Nord contribuent à l'obésité et favorisent l'insécurité alimentaire.
- L'obésité dans les pays du Nord, est devenue aujourd'hui plutôt un signe de pauvreté que de richesse.
- L'insécurité alimentaire augmente beaucoup plus dans les pays où la pratique du fast-food est très répandue
- On considère une personne obèse lorsque son IMC<sup>9</sup> est supérieur à 30
- Aucune des propositions précédentes.

A  
B  
D<sup>9</sup> IMC = Indice de masse corporelle

5

La production et la consommation de café dans le monde en 2017 :

A  
C

pays	production totale (en millions de sacs de 60 kg de grains de café)	importateurs	importations (en millions de sacs de 60kg de grains de café)
Brésil	52	Union européenne	44
Vietnam	23	États-Unis	23
Indonésie	9	Japon	6,5
Colombie	8	Suisse	2
Éthiopie	6	Canada	2
Inde	5	Algérie	2
Honduras	5	Corée du Sud	2
Pérou	4,5	...	...
Mexique	4,5	monde	101
Guatemala	4		
...	...		
<b>monde</b>	<b>142</b>		

- Le café est clairement une culture destinée à l'exportation
- Le Brésil étant le premier producteur mondial, il possède forcément un grand pouvoir de décision dans l'élaboration du prix du café sur le marché international
- On peut s'attendre à ce que la spéculation joue entre les pays producteurs et les pays consommateurs de café.
- Aucune des propositions précédentes.

<b>NOM</b> :	<b>CLASSE</b> :
<b>PRENOM</b> :	

## REPONSES

### Partie 1 : Chine

**/110**

	Question 1 V/F	Question 2 A/B/C/D/E	Question 3 A/B/C/D/E
1			
2			
3			
4			
5			
6			
7			
8			
9			
10			
11			////////////////////////////////////
12			////////////////////////////////////
13			////////////////////////////////////
14			////////////////////////////////////
15			////////////////////////////////////
16			////////////////////////////////////
17			////////////////////////////////////
18			////////////////////////////////////
19			////////////////////////////////////
20			////////////////////////////////////
<b>TOTAL</b>	<b>/40</b>	<b>/40</b>	<b>/30</b>

### Partie 2 : l'agriculture intertropicale

**/60**

	Question 1 V/F	Question 2 A/B/C/D/E/F	Question 3 A/B/C/D/E
1			
2			
3			
4			
5			
6			////////////////////////////////////
7			////////////////////////////////////
8			////////////////////////////////////
9			////////////////////////////////////
10			////////////////////////////////////
<b>TOTAL</b>	<b>/20</b>	<b>/20</b>	<b>/20</b>